



14 ° ROTEIRO DE ATIVIDADES COMPLEMENTARES DE ESTUDO - COVID 19

ESCOLA MUNICIPAL SÃO FERNANDO

PROFESSORA: KELLY.

TURMA: EJA ETAPA 1.

COMPONENTES CURRICULARES: LÍNGUA PORTUGUESA, MATEMÁTICA E ESTUDOS DA NATUREZA E SOCIEDADE.

PERÍODO DE REALIZAÇÃO: 31 DE MAIO À 02 DE JUNHO.

ALUNO(A): _____

NÚMERO DE TELEFONE: _____

ENDEREÇO: _____

<p>O QUE VAMOS ESTUDAR?</p>	<ul style="list-style-type: none"> ➤ LÍNGUA PORTUGUESA: LEITURA E INTERPRETAÇÃO DE DIFERENTES TIPOS TEXTUAIS; ESCRITA DE PALAVRAS. ➤ MATEMÁTICA: NUMERAÇÃO, ANTECESSOR E SUCESSOR, ADIÇÃO. ➤ ESTUDOS DA NATUREZA E SOCIEDADE: OS MOVIMENTOS DE ROTAÇÃO E TRANSLAÇÃO.
<p>PARA QUE VAMOS ESTUDAR ESSES CONTEÚDOS?</p>	<ul style="list-style-type: none"> ➤ LÍNGUA PORTUGUESA: DOMÍNIO DO MECANISMO E DOS RECURSOS DO SISTEMA DE REPRESENTAÇÃO ESCRITA, COMPREENDENDO SUAS FUNÇÕES; INTERESSE PELA LEITURA E ESCRITA COMO FONTES DE INFORMAÇÃO, APRENDIZAGEM. ➤ MATEMÁTICA: OBSERVAÇÃO DE CRITÉRIOS QUE DEFINEM UMA CLASSIFICAÇÃO DE NÚMEROS (MAIOR, MENOR, ESTAR ENTRE). ➤ ESTUDOS DA NATUREZA E SOCIEDADE: NOMEAR MOVIMENTOS DA TERRA E EM SEU TORNO;
<p>COMO VAMOS ESTUDAR OS CONTEÚDOS?</p>	<p>COM AJUDA DE ALGUM FAMILIAR ORGANIZE UM AMBIENTE TRANQUILO. FIQUE ATENTO ÀS EXPLICAÇÕES DADAS PELAS PROFESSORAS NO WHATSAPP. ORGANIZE-SE COM AS ATIVIDADES PARA NÃO ACUMULAR. SE TIVER DÚVIDA PERGUNTE NO WHATSAPP PARA A PROFESSORA PARA NOVA EXPLICAÇÃO.</p>
<p>COMO VAMOS REGISTRAR O QUE APRENDEMOS?</p>	<p>BUSCANDO ATIVIDADES IMPRESSAS NA ESCOLA. LENDO E PREENCHENDO DE ACORDO COM AS ORIENTAÇÕES DAS ATIVIDADES ENVIADAS, SEM DEIXAR NADA EM BRANCO OU INCOMPLETO.</p> <p>OUVINDO ATENTAMENTE AS EXPLICAÇÕES QUE A PROFESSORA ENVIAR PELO WHATSAPP E CHAMANDO QUANDO NÃO ENTENDER OU NÃO CONSEGUIR FAZER AS ATIVIDADES.</p> <p>DEVOLVENDO AS ATIVIDADES SEMANALMENTE PARA QUE A PROFESSORA FAÇA AS CORREÇÕES NECESSÁRIAS.</p>

ESCOLA MUNICIPAL SÃO FERNANDO.

ROLÂNDIA, 31 DE MAIO DE 2021.

HOJE É SEGUNDA-FEIRA.

LÍNGUA PORTUGUESA

O CACHORO DA ALICE

ALICE TEM UM CACHORRO DE RAÇA.

O CACHORRO SE CHAMA FUMAÇA.

FUMAÇA GOSTA DE PASSEAR COM ALICE.

NA RUA, FUMAÇA É MUITO BRAVO. SE ALGUÉM CAÇA DE ALICE, ELE LOGO COMEÇA A LATIR.

A CRIANÇADA DA VIZINHANÇA ACHA FUMAÇA UM CACHORRO MUITO VALENTE.

LIDIA DE MORAIS.

1-LEIA O TEXTO COM ATENÇÃO E DEPOIS COMPLETE AS FRASES.

a) _____ TEM UM CACHORRO DE RAÇA.

b) O CACHORRO SE CHAMA _____.

c) _____ GOSTA DE PASSEAR COM _____.

2- QUAIS AS CARACTERÍSTICAS DO CACHORRO FUMAÇA?

MATEMÁTICA

1- DÊ O ANTECESSOR E O SUCESSOR:

Antecessor	- 1
	28
	43
	50
	60
	30
	42
	36

Sucessor	+ 1
59	
73	
60	
12	
31	
70	
41	

2- RESOLVA AS OPERAÇÕES:

ALGORITMO DA ADIÇÃO

$11 + 12 =$	$9 + 10 =$	$8 + 10 =$	$6 + 10 =$																																
<table border="1" style="border-collapse: collapse; width: 40px; height: 60px;"><tr><td style="padding: 2px;">D</td><td style="padding: 2px;">U</td></tr><tr><td style="padding: 2px;">1</td><td style="padding: 2px;">1</td></tr><tr><td style="padding: 2px;">1</td><td style="padding: 2px;">2</td></tr><tr style="border-top: 1px solid black;"><td style="padding: 2px;">2</td><td style="padding: 2px;">3</td></tr></table>	D	U	1	1	1	2	2	3	<table border="1" style="border-collapse: collapse; width: 40px; height: 60px;"><tr><td style="padding: 2px;">D</td><td style="padding: 2px;">U</td></tr><tr><td style="padding: 2px;"></td><td style="padding: 2px;">9</td></tr><tr><td style="padding: 2px;">1</td><td style="padding: 2px;">0</td></tr><tr style="border-top: 1px solid black;"><td style="padding: 2px;"></td><td style="padding: 2px;"></td></tr></table>	D	U		9	1	0			<table border="1" style="border-collapse: collapse; width: 40px; height: 60px;"><tr><td style="padding: 2px;">D</td><td style="padding: 2px;">U</td></tr><tr><td style="padding: 2px;"></td><td style="padding: 2px;"></td></tr><tr><td style="padding: 2px;"></td><td style="padding: 2px;"></td></tr><tr style="border-top: 1px solid black;"><td style="padding: 2px;"></td><td style="padding: 2px;"></td></tr></table>	D	U							<table border="1" style="border-collapse: collapse; width: 40px; height: 60px;"><tr><td style="padding: 2px;">D</td><td style="padding: 2px;">U</td></tr><tr><td style="padding: 2px;"></td><td style="padding: 2px;"></td></tr><tr><td style="padding: 2px;"></td><td style="padding: 2px;"></td></tr><tr style="border-top: 1px solid black;"><td style="padding: 2px;"></td><td style="padding: 2px;"></td></tr></table>	D	U						
D	U																																		
1	1																																		
1	2																																		
2	3																																		
D	U																																		
	9																																		
1	0																																		
D	U																																		
D	U																																		
$9 + 13 =$	$10 + 11 =$	$5 + 12 =$	$5 + 11 =$																																
<table border="1" style="border-collapse: collapse; width: 40px; height: 60px;"><tr><td style="padding: 2px;">D</td><td style="padding: 2px;">U</td></tr><tr><td style="padding: 2px;"></td><td style="padding: 2px;"></td></tr><tr><td style="padding: 2px;"></td><td style="padding: 2px;"></td></tr><tr style="border-top: 1px solid black;"><td style="padding: 2px;"></td><td style="padding: 2px;"></td></tr></table>	D	U							<table border="1" style="border-collapse: collapse; width: 40px; height: 60px;"><tr><td style="padding: 2px;">D</td><td style="padding: 2px;">U</td></tr><tr><td style="padding: 2px;"></td><td style="padding: 2px;"></td></tr><tr><td style="padding: 2px;"></td><td style="padding: 2px;"></td></tr><tr style="border-top: 1px solid black;"><td style="padding: 2px;"></td><td style="padding: 2px;"></td></tr></table>	D	U							<table border="1" style="border-collapse: collapse; width: 40px; height: 60px;"><tr><td style="padding: 2px;">D</td><td style="padding: 2px;">U</td></tr><tr><td style="padding: 2px;"></td><td style="padding: 2px;"></td></tr><tr><td style="padding: 2px;"></td><td style="padding: 2px;"></td></tr><tr style="border-top: 1px solid black;"><td style="padding: 2px;"></td><td style="padding: 2px;"></td></tr></table>	D	U							<table border="1" style="border-collapse: collapse; width: 40px; height: 60px;"><tr><td style="padding: 2px;">D</td><td style="padding: 2px;">U</td></tr><tr><td style="padding: 2px;"></td><td style="padding: 2px;"></td></tr><tr><td style="padding: 2px;"></td><td style="padding: 2px;"></td></tr><tr style="border-top: 1px solid black;"><td style="padding: 2px;"></td><td style="padding: 2px;"></td></tr></table>	D	U						
D	U																																		
D	U																																		
D	U																																		
D	U																																		



















ESCOLA MUNICIPAL SÃO FERNANDO.

ROLÂNDIA, 01 DE JUNHO DE 2021.






HOJE É TERÇA-FEIRA.

LÍNGUA PORTUGUESA

1) COMPLETE OS NOMES DAS FIGURAS COM A PRIMEIRA SÍLABA.

 ___DIO	 ___BONETE
 ___LÓGIO	 ___FÁ
 ___DO	 ___COLA
 ___TO	 ___NO
 ___GUA	 ___PATO
 ___DA	 ___PA
 ___BÔ	 ___CO
 ___SADA	 ___PO
 ___QUETE	 ___RROTE

2) PINTE AS LETRAS QUE FORMAM A PALAVRA.

FIGURA	COLORIR AS LETRAS QUE FORMAM A PALAVRA	ESCREVER A PALAVRA
	P O I E X B E	_____
	O K J U S R E	_____
	O L O D R P V	_____
	E S M Z E A W	_____
	O F O A G P C	_____


ESCOLA MUNICIPAL SÃO FERNANDO.

ROLÂNDIA, 02 DE JUNHO DE 2021.

HOJE É QUARTA-FEIRA.

MOVIMENTOS DA TERRA

A TERRA NÃO FICA PARADA, ELA ESTÁ SEMPRE EM MOVIMENTO. SÃO DOIS OS MOVIMENTOS DA TERRA: **ROTAÇÃO E TRANSLAÇÃO.**



ROTAÇÃO: É O MOVIMENTO QUE A TERRA FAZ AO REDOR DE SI MESMA. ELA GIRA COMO UM PIÃO. DESSE MOVIMENTO RESULTAM OS DIAS E AS NOITES, A CADA VOLTA 24 HORAS

OU UM DIA.

TRANSLAÇÃO: É O MOVIMENTO QUE A TERRA FAZ AO REDOR DO SOL. ESSA GRANDE VOLTA LEVA 365 DIAS E 6 HORAS OU UM ANO.


ESSAS 6 HORAS QUE RESTAM, NO FIM DE 4 ANOS FAZEM 24 HORAS OU UM DIA, TOTALIZANDO 366.

O ANO DE 366 DIAS É CHAMADO DE BISSEXTO.

O DIA FORMADO NOS ANOS BISSEXTOS É INCLUÍDO NO MÊS DE FEVEREIRO, QUE PASSA A TER 29 DIAS.

A TERRA, GIRANDO EM TORNO DO SOL, HORA SE APROXIMA DELE, HORA SE AFASTA. É POR CAUSA DESSA GRANDE VOLTA QUE TEMOS AS QUATRO ESTAÇÕES DO ANO.

1) COMPLETE OS DESENHOS COM O NOME DOS MOVIMENTOS QUE A TERRA REALIZA.

<p>A Terra gira em torno de si mesma, é o movimento de _____.</p> 	<p>A Terra gira ao redor do Sol, é o movimento de _____.</p> 
---	---

LÍNGUA PORTUGUESA

1) LIGUE E SEPRE AS SÍLABAS:



BONECA

--	--	--



BOCA

--	--



BARATA

--	--	--